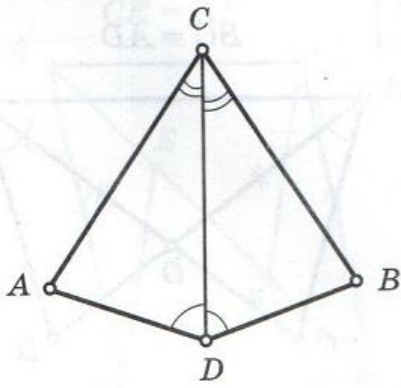
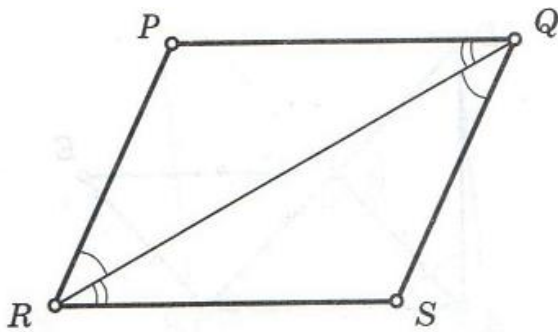


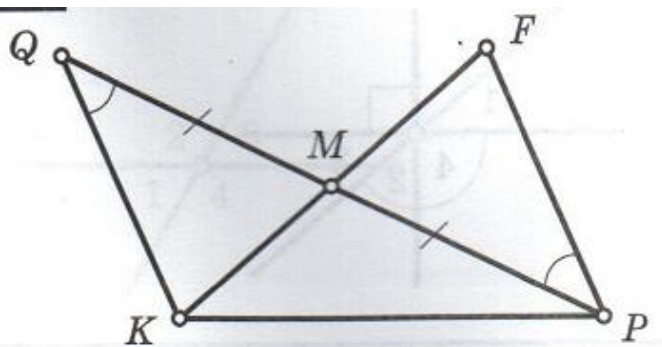
№1. Докажите равенство треугольников ADC и BDC.



№2. Докажите равенство треугольников RPQ и QRS.



№3. Докажите равенство треугольников QMK и PMF.



№4. Докажите равенство треугольников ABD и DBC.

